

eimei ASK presents

毎日

数学 α vol. 4

Daily Mathematics α

Start day(/)

Name()

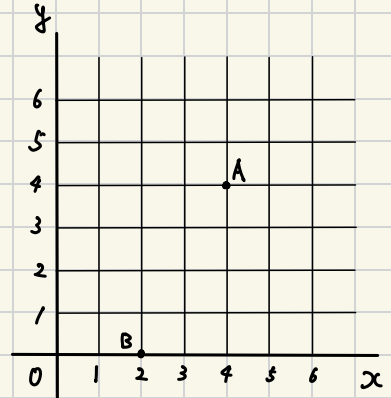
*eimei
ASK*

2025. 09. 04 (木)

座標平面上に点A(4, 4), B(2, 0)がある。大小2つのさいころを同時に振り、大きいさいころの目をs、小さいさいころの目をtとして、点P(s, t)をこの座標平面上にとるとき、次の問いに答えよ。

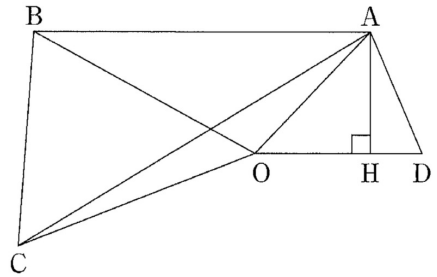
出典:2021 日大豊山

- (1) 点Pが関数 $y = \frac{6}{x}$ のグラフ上にあるときの確率を求めよ。
- (2) $\triangle PAB$ の面積が4以上になるときの確率を求めよ。



2025. 09. 05 (金)

- (7) 右の図で $AB \parallel OD$, $OA = OD = 5$, $AH = 3$,
 $OB = OC = 9$, $\angle AOD = \angle BOC$ のとき,
三角形 OAC の面積を求めなさい。



出典:2021 桃山学院

2025. 09. 06 (ユ)

あるパーティーで、プレゼント交換を行なった。参加者は、各自1個ずつプレゼントを用意する。いったん、すべてのプレゼントを回収し十分に混ぜたあと、ランダムに1人1個ずつ配布される。このとき、参加者全員が、自ら用意したプレゼントとは違うプレゼントをもらう確率を求めたい。

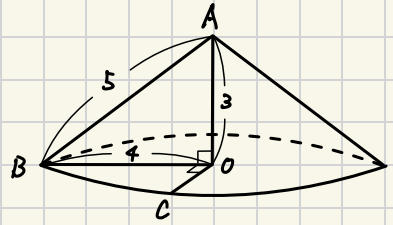
参加者の人数が次の各場合についてその確率を求めなさい。

出典:2022 開智 第1回

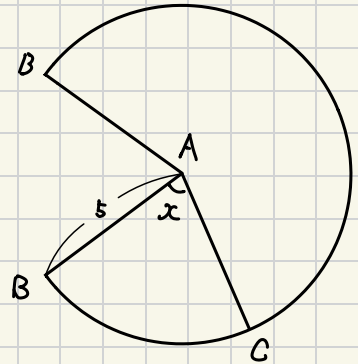
- (1) 参加者が2人の場合。
- (2) 参加者が3人の場合。
- (3) 参加者が4人の場合。

2025.09.09(☆)

右の図のように、底面の半径が4、高さが3、
母線の長さが5の円錐がある。頂点をA、
底面の円周上に $\angle BOC=90^\circ$ となる点Cをとる。
この円錐の側面の展開図において、 $\angle x$ の大きさを
求めなさい。



出典:2021 筑紫女学園



(側面の展開図)

2025.09.10 (k)

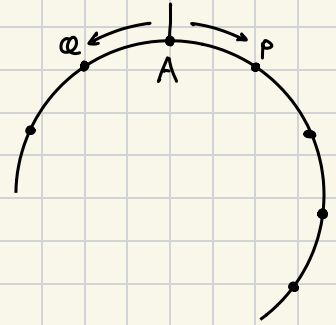
(4) 次の連立方程式を解きなさい。

$$\begin{cases} 21(x + y) + 11(x - y) = 3 \\ 7(x + y) - 22(x - y) = 1 \end{cases}$$

出典:2022 京都成章

2025.09.11 (木)

右図のように、半径5cmの円の周上に円周を n 等分する点をうつ。その中の1点をAとする。動点Pは、Aから時計まわりに1秒間に a 個ずつ点の上を移動する。また、動点Qは、Pと同時に、Aから逆の方向に1秒間に b 個ずつ点の上を移動する。このとき、以下の問いに答えよ。



出典:2021 駿台甲府

- (1) $n=60$, $a=1$, $b=3$ とする。PとQが初めて同じ点の上にあるのは、動き始めてから何秒後か。
- (2) $n=300$, $a=2$, $b=5$ とする。動き始めてから30秒後のときのAを含む弧PQの長さを求めよ。
- (3) $n=720$ とする。PとQが動き始めてから48秒後に一度もすれ違うことなく初めて同じ点の上にあり、その時点までに2点P, Qが移動した距離の差は 6π であった。 $a>b$ であるとき、このような条件を満たす a , b の値を求めよ。

2025.09.12(金)

数字を並べたときに14641のように逆から数字を並べても同じ数になるものを回文数という。1000以上の整数のうち15の倍数である最も小さい回文数は？

出典:2018 淑徳巣鴨

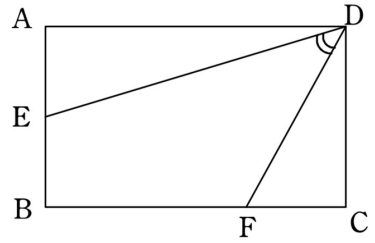
2025.09.13(土)

$2^{10} + 2^{11} + 2^{12} + 2^{13} + 2^{14} - 2^{15}$ の値を求めよ。

出典:2019 栄東 特待生

2025.09. (4 (A))

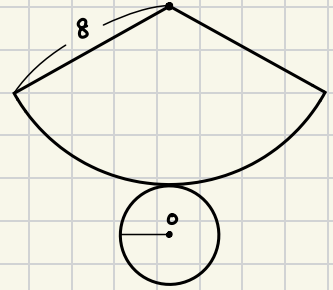
- (7) 右の図のような, $AB=CD=2\text{ cm}$,
 $AD=BC=3\text{ cm}$ の長方形 $ABCD$ において,
 $AE=CF=1\text{ cm}$ のとき, $\angle EDF$ の大きさを
求めなさい。



出典:2025 夙川

2025.09.15(月)

右の図は、円Oを底面とする円すいの展開図である。
側面のおうぎ形は半径が8で面積が 12π である。
このとき、底面の円Oの半径は？

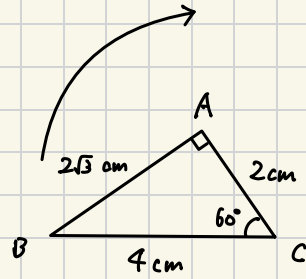


出典:2025 淑徳巣鴨 2期

2025.09.16(木)

図のように、 $\angle A=90^\circ$, $\angle C=60^\circ$, $AC=2\text{cm}$,
 $AB=2\sqrt{3}\text{cm}$, $BC=4\text{cm}$ の $\triangle ABC$ を、頂点Cを
中心として矢印の向きに 120° 回転する。

このとき、辺ABが通過する部分の面積を求め
なさい。ただし、円周率を π とする。

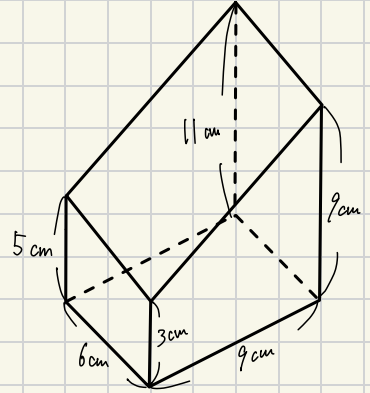


出典:2025 佐久長聖 一般

2025.09.17(G)

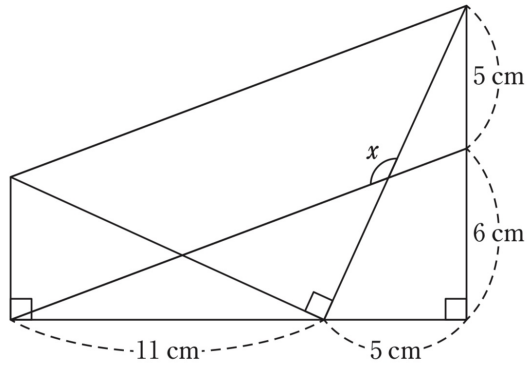
次の立体は、直方体を1つの平面で切断してできたものである。この立体の体積を求めよ。

出典:2024 奈良学園



2025.09.18 (木)

(1) 次の図において、 $\angle x$ の大きさを求めよ。



出典:2025 城西大附属城西

2025.09.19.(金)

(3) 定価の2割引で買うと a 円の商品があります。この商品の定価を a を用いて表すと 円である。ただし、消費税は考えないものとする。

出典:2025 就実 アドバンス

2025.09.20(土)

整数の2乗で表される数を平方数という。

30を加えても13を加えても平方数となる正の整数は？

出典:2024 福岡大学附属大濠 後期

2025.09.21 (日)

Aの工場の製品には4%、Bの工場の製品には2%の不良品が含まれてしまうことが分かっている。Aの工場の製品とBの工場の製品を4:5の割合で仕入れたが、13個の不良品が見つかった。Aの工場から仕入れた製品の個数を求めよ。

出典:2023 京都教育大附属

2025.07.22(月)

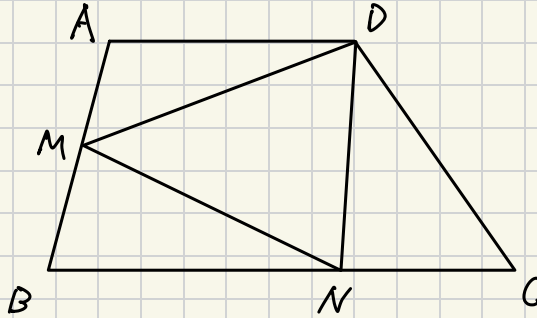
ある祭りの参加人数について、男子中学生と男子高校生の比は2:5であった。
また、女子中学生は14人で、女子高校生は中学生の総人数より4人多くて、
中学生の総人数と高校生の総人数の比は1:3であった。参加している高校生の
総人数を求めよ。

出典:2022 青雲

2025.09.23 (木)

$AD \parallel BC$, $AB=DC=12$, $BC=18$ の台形 $ABCD$ があり、 AB の中点を M 、 $BN:NC=2:1$ となる点 N をとる。 $\angle ABC=\angle DCB=70^\circ$ のとき、 $\angle DMN$ の大きさを求めなさい。

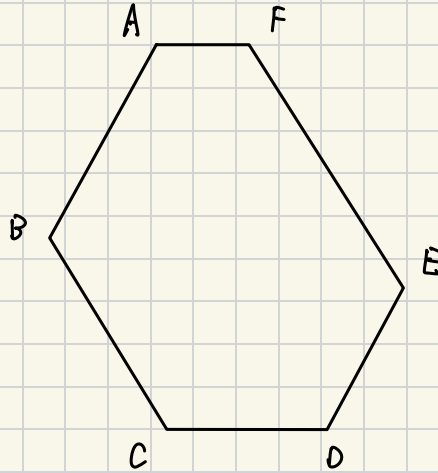
出典:2021 京都女子



2025.09.24 (k)

図のような、6つの内角の大きさがすべて等しく、周の長さが39の六角形ABCDEFがある。AB=8, BC=7, CD=6のとき、EFの長さは？

出典:2023 國學院久我山



2025.09.25(木)

(6) 半径 3 cm の球を真上に 10 cm 持ち上げたとき, この球が通過する部分の体積を求めなさい。

出典:2023 中央大横浜

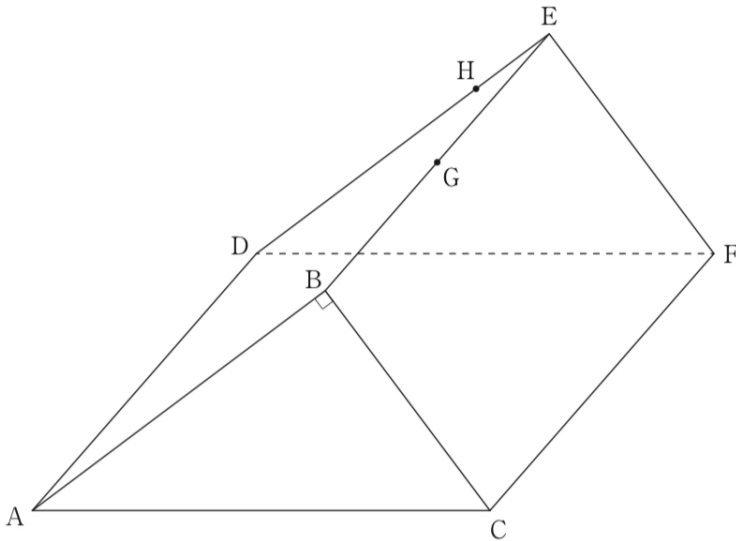
2025. 09. 26 (金)

IV. 下の図のような三角柱 $ABC-DEF$ があり, $AB=8\text{cm}$, $BC=6\text{cm}$, $AC=10\text{cm}$,
 $AD=10\text{cm}$, $\angle ABC=90^\circ$ である。点 G は辺 BE の中点で, 点 H は辺 DE 上にあり,
 $DH:HE=3:1$ である。このとき, 次の問いに答えなさい。

[1] 三角柱 $ABC-DEF$ の側面積を求めなさい。

[2] 立体 $A-GHF$ の体積を求めなさい。

[3] 点 G から面 $ADFC$ に下ろした垂線と面 $ADFC$ との交点を I とするとき, 線分 GI の長さを求めなさい。



出典:2021 立命館慶祥

2025.09.27(土)

- 4 Oさんは親戚のおじさんの蔵で「高さ：一尺五寸」と書いてある日本人形を何体か見つけた。このことをきっかけに総合の時間で長さや重さの単位について調べてみたところ、普段私たちが使用している「メートル法」の他に「尺貫法」や「ヤード・ポンド法」という長さや重さを表す方法があり、メートル法との関係もおおむね次の表のような関係にあることがわかった。この表をもとに、次の(1)～(4)の問いに答えなさい。

尺貫法	メートル法
一尺(しゃく)	30 cm
一寸(すん)	3 cm
一斤(きん)	600 g
一匁(もんめ)	3.75 g

ヤード・ポンド法	メートル法
1ヤード	90 cm
1フィート	30 cm
1インチ	2.5 cm
1ポンド	450 g
1ドラム	1.75 g

- (1) Oさんが見つけた日本人形の高さは何 cm であるか答えなさい。
- (2) 一斤は何ドラムであるか、小数第一位を四捨五入して整数で答えなさい。
- (3) 長さ二寸の釘と長さ2インチのチョークが合わせて50本あり、すべての長さの合計は278 cm になった。このとき、チョークは何本あるか求めなさい。
- (4) Oさんのおじさんの蔵にある日本人形は全て重さが0.9斤である。また、Gさんのお婆さんの倉庫には高さ2フィート、重さ2.2ポンドのテディベアが何体かある。すべての日本人形とテディベアの高さの合計は19.65 m になった。また、重さの合計は28.17 kg であった。このとき、日本人形は何体あるか求めなさい。